

### REGIÕES EUROPÉIAS

#### Europa Setentrional

Região localizada no extremo norte do continente, cortada pelo Círculo Polar Ártico e composta por cinco países: Noruega, Suécia, Dinamarca, Finlândia e Islândia.

Esse grupo de países apresenta como características comuns:

- ⇒ Clima temperado frio amenizado pela ação da Corrente do Golfo (Gulf Stream);
- ⇒ Relevo antigo e desgastado pela erosão (Alpes Escandinavos);
- ⇒ Agricultura desenvolvida e fortemente associada à pecuária leiteira;
- ⇒ Grandes frotas mercantes;
- ⇒ Grandes pescadores, principalmente Noruega e Islândia;
- ⇒ Organização social e econômica baseado numa política de bem estar (Welfare State), assegurando um elevado padrão de vida às suas populações.



#### EUROPA NORTE-OCIDENTAL

Apresenta-se dividida em duas porções distintas:

##### 1. Porção Insular

Formado pelo Arquipélago Britânico, onde se destacam duas ilhas principais: Grã-Bretanha e Irlanda. Aí se localiza o Reino Unido da Grã-Bretanha, composta pela Inglaterra, Escócia, País de Gales e Irlanda do Norte ou Ulster; e pela República da Irlanda ou Eire.

Essa parte da Europa tem sido objeto de conflitos constantes, denominado de **"Questão Irlandesa"**.

Os conflitos devem-se ao fato de que a minoria de católicos do Ulster, que são republicanos e pertencem às camadas não privilegiadas da população querem integrar-se à República da Irlanda, tornando-se independente em relação ao Reino Unido. Já os protestantes, que na sua maioria pertencem às camadas abastadas, querem permanecer ligados ao Reino Unido.

A situação é grave, tendo se transformado numa verdadeira guerra civil, principalmente após a formação do IRA (Irish Republican Army), braço armado das organizações políticas católicas. Em 1994 entrou em vigor um cessar-fogo, no entanto, os ânimos não foram totalmente abrandados.

##### 2. Porção continental

Formado pela França e Benelux (Bélgica, Holanda e Luxemburgo).

## EUROPA MERIDIONAL

É um conjunto formado por países mediterrâneos, de economia capitalista, como: Itália, Países Ibéricos (Portugal e Espanha), Grécia e Turquia (parte europeia). Destes destacam-se:

### Itália

A Itália é formada por várias ilhas e uma península que avança 800 km para dentro do mar Mediterrâneo. Situa-se entre as seis maiores potências industriais do mundo. Entretanto, é marcada por enormes contrastes. A região Norte apresenta-se rica e fortemente industrializada (Vale do rio Pó). Já o Sul, região do Mezzogiorno, é pobre e tem sua economia baseada na atividade agropecuária.

Em virtude de sua tardia unificação (segunda metade do século XIX), a industrialização toma impulso somente a partir da década de 1930, com o desenvolvimento dos setores químico e mecânico, juntamente com a tradicional indústria têxtil. Com a segunda Guerra Mundial esse processo é interrompido, devido à sua participação como potência do Eixo, orientado pela política fascista.

A renda italiana provém da atividade industrial (46%), do setor terciário (36%), onde o turismo responde por boa parcela dessa renda e da agricultura (18%), principalmente a do Vale do Pó.

No entanto, nos últimos 30 anos, em várias cidades italianas, especialmente nas do norte, os problemas urbanos intensificaram-se: o desemprego, favelamento, prostituição e criminalidade em decorrência do forte êxodo rural e de seu crescimento desordenado.



### Países Ibéricos

Espanha e Portugal apresentam profundas diferenças econômicas e sociais em relação ao restante da Europa. A Espanha com aproximadamente 40 milhões de habitantes numa área de 504.750 km<sup>2</sup>, apresenta-se populosa, enquanto que Portugal com pouco mais de 10,5 milhões de habitantes distribuídos por uma área de apenas 92.082 km<sup>2</sup>, apresenta-se povoado.

Os recursos minerais e energéticos são escassos, destacando o mercúrio, enxofre, carvão, cobre chumbo e o ferro no norte da Espanha. Quanto ao seu crescimento industrial associa-se à presença de transnacionais, com grandes investimentos, após a inserção desses países no MCE. Entre as indústrias nacionais os destaques são para as têxteis e alimentícias (azeite e vinho). A pesca é importante atividade econômica em Portugal.

### Grécia

Sua população é de apenas 10 milhões de habitantes. Localizada na Península Balcânica, é constituída por uma porção continental, 80% do país; e uma porção insular formado por 347 ilhas, das quais 134 são habitadas. Sua posição geográfica no Mar Mediterrâneo é muito estratégica. Por suas águas navegam as embarcações que necessitam chegar ao Mar Negro, através dos Estreitos de Dardanellos e Bósforo.

O comércio e a indústria do turismo são os responsáveis por mais da metade do PNB do país, vale lembrar ainda que a Grécia possui a terceira maior frota mercante do mundo com aproximadamente 4.000 embarcações.

### Europa Centro-Oriental

Região formada por sete países: Polônia, Tchecoslováquia, Hungria, Romênia, Bulgária, Iugoslávia e Albânia, que até recentemente adotavam o Socialismo.

Após a Segunda Guerra Mundial o socialismo foi ali implantado através da ocupação de seus territórios pelo Exército Vermelho, que expulsou os alemães derrotados, ou como o caso da Iugoslávia e a Albânia, fruto de lutas autônomas contra as tropas nazi-fascistas.

Por ser uma área de povoamento muito antigo e ocupar uma posição geográfica estratégica de ligação entre o Ocidente e o Oriente, apresenta grande diversidade étnica.

## CEI (COMUNIDADE DE ESTADOS INDEPENDENTES)

Em 1917, com a Revolução Russa, subiu ao poder Lênin (1917-1924), fundando o primeiro país socialista da história. Em dezembro de 1922, no X Congresso Pan-Russo dos Sovietes, foi criada a União das Repúblicas Socialistas Soviéticas (URSS), a partir da Rússia, Federação Transcaucasiana, Ucrânia e Rússia Branca (Bielorrus). Posteriormente outras foram aderindo ou sendo integradas.

Em 1940, o novo país atinge sua maior extensão, passando a constituir-se de 15 repúblicas, com extensão pouco superior a 22 milhões de km<sup>2</sup>, estendendo-se por dois continentes: cerca de 5,4 milhões de km<sup>2</sup> a oeste dos Montes Urais, na Europa, e quase 17 milhões de km<sup>2</sup> a leste dos Urais, em terras asiáticas.

A URSS cresceu e se desenvolveu de maneira muito rápida. Tanto que sua participação na Segunda Guerra Mundial, junto aos aliados, foi fundamental e, após a Guerra ela passou a dividir com os EUA o lugar de superpotência mundial. Tendo início a **Guerra Fria**, vivia-se o mundo **bipolarizado**.



A dissolução do Estado Soviético é consequência de vários fatores que ocorreram a partir de 1989, como: a queda do Muro de Berlim, a reunificação alemã, a "libertação" do leste europeu, fatos estes que marcaram o fim do mundo bipolarizado, onde até então, as duas superpotências estabeleciam suas áreas de domínio geopolítico. Assim, abre-se o espaço para o surgimento de uma **Nova Ordem Mundial** já em curso.

As reformas econômico-políticas (*glasnost e perestroika*), surgidas em 1985 com Mikhail Gorbachev, começaram a enfraquecer o centralismo dos PCs, abrindo espaço para os movimentos nacionalistas, que primavam pela separação, independência e autonomia, numa tentativa de reconquistar a identidade nacional de cada povo, até então massificado pelo socialismo.

As reformas propostas por Gorbachev visavam gradativamente à descentralização e à abertura da economia soviética bem como a melhor qualidade e produtividade de bens industriais, a partir do intercâmbio comercial. Tais propostas criaram dificuldades e geraram conflitos entre os conservadores e os reformistas. De tal maneira que a evolução da crise acabou resultando:

- ⇒ O Tratado da União (1991), onde as repúblicas conquistariam maior autonomia, porém, sob o domínio de Moscou.
- ⇒ O Golpe de Estado (1991), numa tentativa de derrubar Gorbachev.
- ⇒ A Independência da Repúblicas Bálticas: Letônia, Estônia e Lituânia.
- ⇒ A Desintegração da União das Repúblicas Socialistas Soviéticas em 1991, a renúncia de Gorbachev e, a criação em dezembro do mesmo ano, da CEI (Comunidade de Estados Independentes), com 11 das ex-repúblicas soviéticas.
- ⇒ A Independência da Geórgia.

eliminar todas as barreiras que impediam a total integração entre os países membros. A partir disso entra em vigor em 1º de janeiro de 1993 a UE em substituição ao MCE. A União Européia consagra **quatro liberdades** fundamentais: **livre circulação de pessoas, bens, capitais e serviços**. Assim, os cidadãos da UE podem-se instalar em outro país por tempo indeterminado, tendo suas qualificações profissionais reconhecidas em todos os Estados-Membros. A partir de 1º de janeiro de 1999, entrou em circulação o **EURO**, a moeda única que, gradativamente irá substituir as moedas dos países membros, cujo objetivo é a existência de uma moeda forte para brigar com o dólar pela hegemonia econômica mundial.

⇒ **COMECON**: Conselho para Assistência Econômica Mútua, com sede em Moscou, foi criada em 1949, pelos países socialistas: União Soviética, República Democrática Alemã, Hungria, Polônia, Tchecoslováquia, Bulgária, Romênia, Mongólia e Cuba (a partir de 1960). Seus objetivos eram para a criação de redes integradas de transporte, aplicação da política de divisão internacional do trabalho, coordenação e utilização conjunta de recursos. Foi extinta em 1991, com o fim do socialismo soviético.

## EXERCÍCIOS

01 . Sobre a Europa Mediterrânea, some as corretas:

- 01) Apresenta relevo acidentado, cadeias montanhosas recentes e estreitas planícies litorâneas.
- 02) Caracteriza-se por verões quentes e secos e por invernos com chuvas.
- 04) A vida rural caracteriza-se por certas culturas como oliveiras, vinhedos, cereais, cítricos, pomares e pelo pastoreio.
- 08) industrialização reduzida, o esgotamento do solo, a carência de recursos naturais (combustíveis, minérios) são problemas enfrentados por países dessa porção européia.
- 16) turismo é grande fonte de renda para a maioria dos países do sul europeu.
- 32) Tem a Itália como seu principal país.

02 . (UEM-PR) A configuração política da Europa oriental sofreu diversas mudanças, após uma série de fatos políticos, econômicos e sociais ocorridos no período da Guerra Fria e, também, no final da década de 80 e início dos anos 90. A esse respeito, assinale o que for correto.

- 01) Após a Segunda Guerra Mundial, o mundo ficou dividido em dois grandes blocos: o bloco capitalista, representado, principalmente, pelos Estados Unidos, Alemanha e China, e o bloco socialista, representado, principalmente, pela então existente União Soviética.

- 02) Após a Segunda Guerra Mundial, a geopolítica soviética atuou no sentido de aumentar a sua influência no Leste europeu.
- 04) A Letônia, Estônia e Lituânia tornaram-se países independentes, após a dissolução da URSS.
- 08) Nos anos da Guerra Fria, a Iugoslávia, a Polônia e a Bulgária conseguiram manter uma posição de distanciamento em relação às imposições advindas do governo soviético vigente no período.
- 16) O programa de democratização política e de transformações econômicas propostas pela URSS, na década de 60, ficou conhecido como a "Primavera de Praga".
- 32) Durante o período da Guerra Fria, a Tchecoslováquia tentou fazer importantes mudanças políticas e econômicas, envolvendo um programa de descentralização política e de democratização, em várias instâncias.

03 . (UEL-PR) Considere o texto apresentado abaixo:

"Os líderes da União Européia (UE) concordaram ontem que a União deverá dispor de seu próprio poderio militar para fazer frente às crises regionais na Europa. Ele deverá ser respaldado por serviços de inteligência e órgãos específicos para a análise e o planejamento estratégico."

(Gazeta Mercantil, 04/06/99)

A iniciativa da União Européia visa modificar o caráter do organismo que, desde 1949, responde pela segurança militar dos países da Europa Ocidental. Assinale a alternativa que expressa corretamente o nome e o caráter inicial dessa organização.

- a) Organização do tratado do Atlântico Norte - aliança militar liderada pelos EUA, reunindo o Canadá e os países europeus ocidentais, criada para fazer frente ao crescimento da área de influência da ex-URSS na Europa.
- b) Comunidade Econômica Européia - associação comercial substituída pela União Européia em 1989, e que era responsável pelo comércio com o bloco socialista durante a "cortina de ferro".
- c) Grupo dos 7 - aliança militar que reúne os países mais ricos e poderosos da Europa Ocidental, destina a fazer frente às forças do Pacto de Varsóvia durante a Guerra Fria.
- d) Pacto de Varsóvia - aliança militar formada no pós-Segunda Guerra Mundial, e capitaneada pela ex-URSS e os países socialistas do Leste Europeu para fazer frente aos EUA na corrida armamentista.
- e) Organização para a Cooperação e Desenvolvimento Econômico - associação econômica de auxílio mútuo, destinada a equipar as forças armadas dos países mais pobres da Europa Ocidental.

05 . Apesar de possuir uma parte de seu território no continente europeu, esse país possui uma cultura e uma tradição histórica islâmicas, das quais ele busca se afastar para lograr um ingresso, já algumas vezes negado, no Mercado Comum Europeu. No ano de 1999, fortes terremotos sacudiram seu território, destruindo quase inteiramente uma de suas principais cidades.

O país em questão é:

- a) Grécia
- b) Iraque
- c) Iugoslávia
- d) Albânia
- e) Turquia

06 . (CESGRANRIO) O ano de 1992 marcou uma importante etapa visando ao mercado único. O tratado de Maastrich lançou uma nova fase da integração europeia, que significa o desenvolvimento de tarefas mais abrangentes. Some as corretas:

- 01) a adoção de uma moeda única, além de um fundo de coesão para os países-membros.
- 02) os novos direitos dos cidadãos europeus, que passaram a ser cidadãos da União Europeia.
- 04) a concessão de mais poderes ao Parlamento Europeu, como o direito de aprovar todos os tratados internacionais importantes.
- 08) a introdução de uma política externa e de segurança comuns.
- 16) a possibilidade de ajuda aos países do leste europeu mais desfavorecidos com a criação de um fundo de coesão que canalizará os projetos de financiamento.
- 32) sua moeda é o Euro, com validade em todos os países membros.

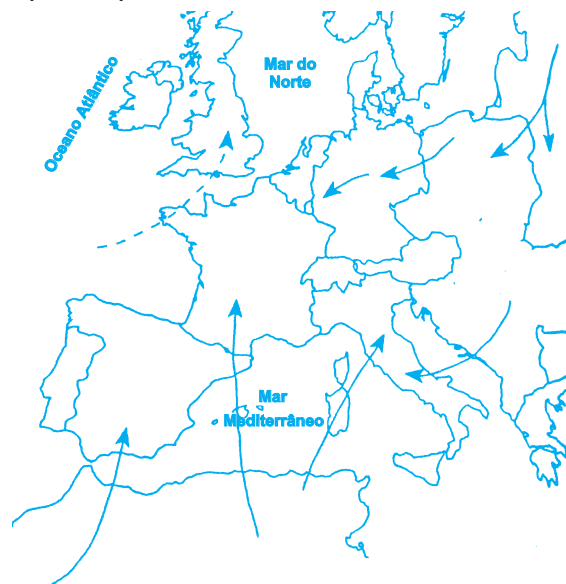


07 . (UEL-PR) Apesar de possuir reservas de petróleo insignificantes, este país europeu tem a maior capacidade de refino de petróleo do continente. É grande importador de petróleo, mas compensa esta dependência com a exportação de seus derivados. A participação estatal neste setor foi fundamental para alavancar o desenvolvimento industrial do país. Seu sucesso deriva de sua localização estratégica: a meio caminho de importantes centros produtores de petróleo, como o norte da África e Oriente Médio, e grandes centros consumidores europeus como França e Alemanha.

O país que contém as características mencionadas é

- a) Portugal
- b) Grécia
- c) Albânia
- d) Inglaterra
- e) Itália

08 . (UNIRIO)



“O fantasma da imigração ameaça a Europa. A enchente de chegadas, como definiu um jornal britânico, é um dos principais temas de discussões na Comunidade Europeia.”

(O Globo, 24.3.91)

Os movimentos migratórios revelam, de um modo geral, as relações estreitas que existem entre o crescimento demográfico e o desenvolvimento econômico. Nesse contexto, é correto afirmar que:

- I. o excedente de população ocorre quando o nível de crescimento da economia de um país não consegue criar empregos para atender ao crescimento da população.
- II. o motor principal das migrações são as desigualdades econômicas entre as regiões, pois, na maioria das vezes, as pessoas partem para outros lugares em busca de melhores oportunidades.
- III. a crise econômica dos países do Leste agrava mais ainda a situação, como se pode verificar, pelos milhares de emigrantes que deixam os países do Norte da África e do Oriente Médio.

Assinale a opção que contém a(s) afirmativa(s) correta(s):

- a) somente a I
- b) somente a II
- c) somente a III
- d) somente a I e III
- e) todas

## AMÉRICA ANGLO-SAXÔNICA



A América Anglo-Saxônica é a parte desenvolvida do continente, composta pelo Canadá e Estados Unidos. Tal denominação se dá em função de ter sido povoada predominantemente por ingleses, originários dos povos Anglo-Saxões, nas denominadas **Colônias de Povoamento**.

Essas colônias ocuparam originalmente a costa leste dos atuais Estados Unidos e o vale do rio São Lourenço, no Canadá. Apresentam as seguintes características:

- ⇒ Imigrantes em grupos familiares predominantemente protestantes, que fugindo das perseguições religiosas ou crises econômicas em seus países de origem, fixaram-se na terra para recomeçar uma vida nova;
- ⇒ Exploração da terra em pequenas e médias propriedades, tendo como base a agricultura familiar;
- ⇒ A produção econômica era voltada para o mercado externo de modo geral, e não para atender as necessidades da metrópole (como era o caso das colônias de exploração);
- ⇒ Incentivo a indústria doméstica e à produção artesanal, cujos objetivos era o de garantir a autonomia da colônia em relação aos bens manufaturados importados da metrópole;
- ⇒ Precoce ruptura dos laços coloniais, além da promulgação de modernas constituições.

Por tudo isso, a América Anglo-Saxônica diferencia-se da América Latina, não só em termos lingüístico-culturais, mas também pela forma de colonização, o que irá interferir no dinamismo do desenvolvimento dessas regiões.

sendo invadida pelas águas do mar, formando a Baía de Hudson.

As maiores altitudes surgem nas Rochosas, cadeia mais oriental que se prolonga até o Alasca, cujo ponto culminante é o Monte Logan, com 6 050 m.

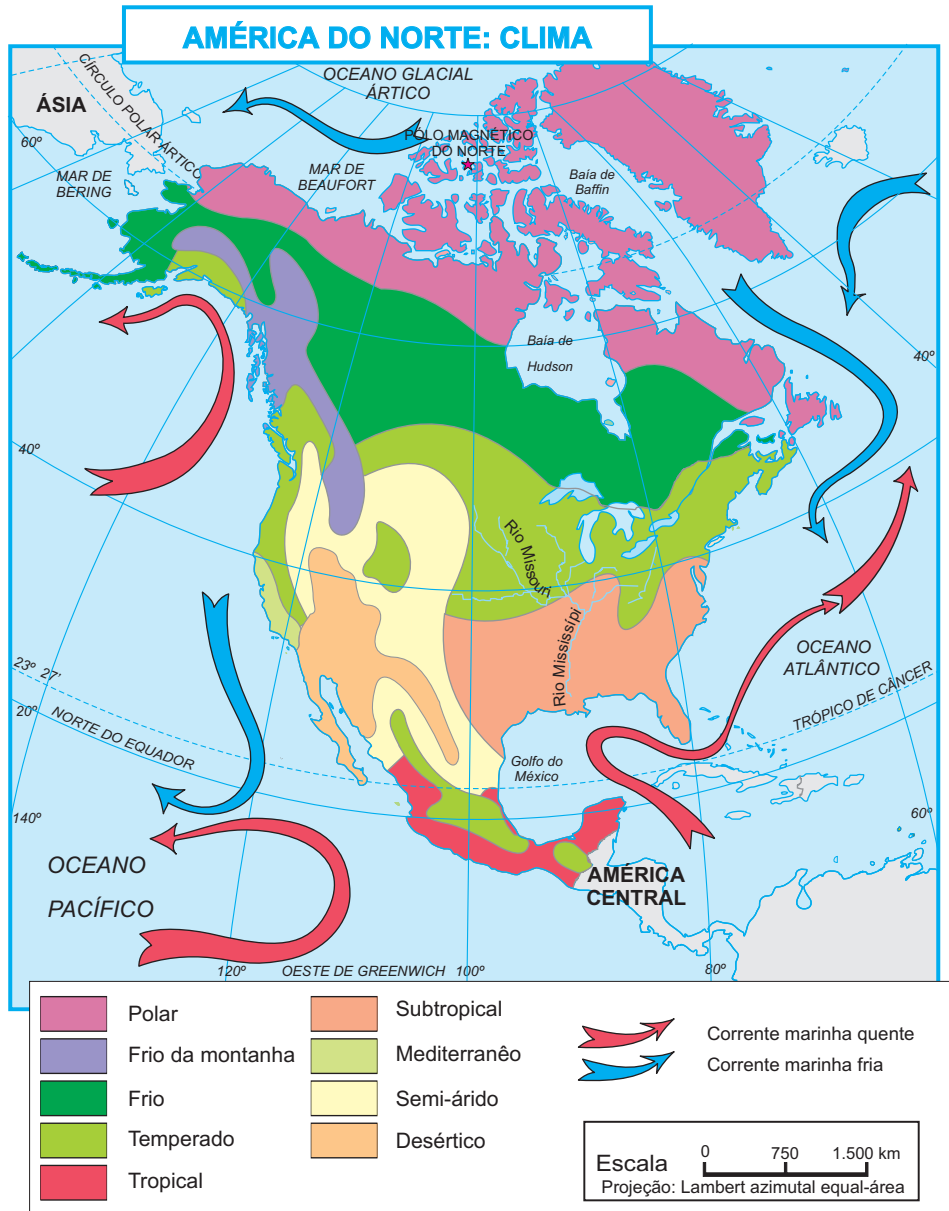
A Planície do São Lourenço separa os Apalaches do Escudo Canadense e forma um corredor argilo-arenoso dos Grandes lagos ao mar.

Nos limites ocidentais do Escudo Canadense tem início uma grande planície sedimentar, que separa o escudo das Montanhas Rochosas.

O relevo canadense facilita a formação de muitos lagos, como: Grande Urso, Grande Escravo e Atabasca.

Há também muitos rios. Entre eles, o de maior importância é o São Lourenço, que liga os Grandes Lagos ao Oceano Atlântico.

Em relação à paisagem climatobotânica o Canadá apresenta, predominantemente, um clima temperado frio, influenciado pela disposição do relevo e pela corrente do Labrador. No norte o clima é subpolar, com temperaturas inferiores a - 20°C, no mês de mais frio, e nunca superior a 10°C, no mês mais quente.



A vegetação predominante no Canadá é a floresta Boreal (coníferas) que domina quase 50% do território. Tal floresta representa importante fonte para a indústria do papel e da madeira, destacam-se também as Prairies, vegetação campestre, que ocupa extensas áreas da região Centro-Sul, aproveitadas para pecuária leiteira e produção de cereais.

## Aspectos Econômicos

Grande parte de seu território é comprometido pela ocorrência de climas frios. Todavia, é uma das economias mais desenvolvidas do mundo. Seu PNB ultrapassa os 600 bilhões de dólares. Contudo, com uma dependência muito grande de capitais e investimentos externos. O capital norte americano entrou no país a partir da década de 1920, principalmente no setor extrativo mineral (35%), no petroquímico (65%) e transportes (70%) do total.

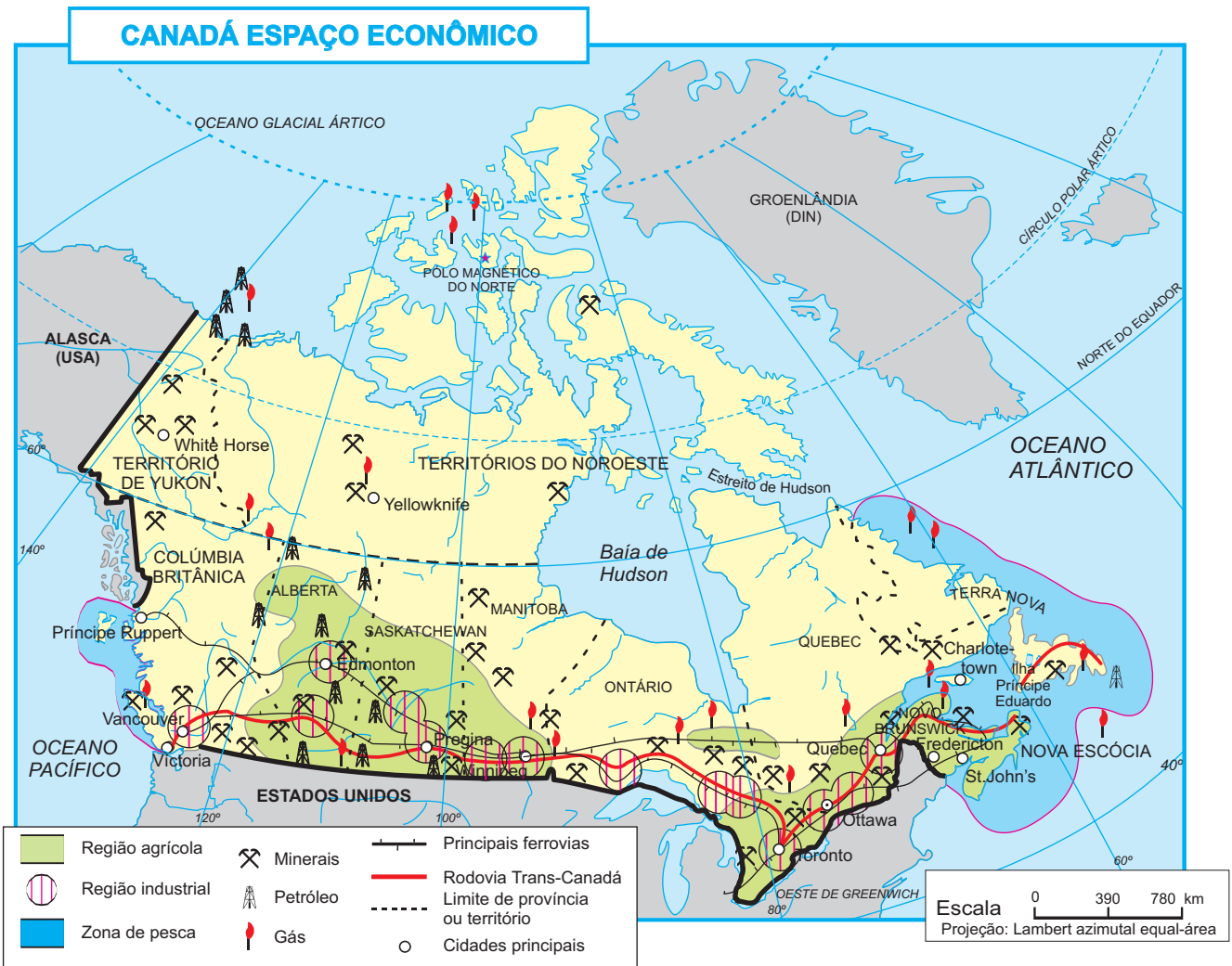
## Agricultura

É uma atividade de grande importância econômica, embora responsável por apenas 4% do PNB canadense. Sua principal área de produção agrícola está localizada junto à fronteira com os Estados Unidos, região das prairies. Com destaque para o trigo (5º produtor mundial), principal produto agrícola (região de Winnipeg). A aveia, cevada, centeio, soja e beterraba, são outros produtos de grande importância.

## Extrativismo

Suas riquezas minerais se classificam entre as mais importantes da Terra: 1º lugar mundial na produção de zinco, níquel, platina, prata e amianto; 2º lugar mundial em produção de ouro; 4º lugar em chumbo e cobre, 6º lugar em ferro, boas jazidas de carvão, petróleo e gás natural na província de Alberta e detém 50% das reservas mundiais de urânio.

A extração da madeira (coníferas), é de vital importância para o país. Pois, fornece matéria-prima para a indústria do papel e celulose, uma das maiores do mundo.



03 . A principal área agrícola do Canadá, onde a agricultura assume um caráter de grande cultura comercial e especulativa, é:

- a região dos Grandes Lagos.
- a Prairie.
- a Costa do Pacífico.
- a região do vale médio do Rio São Lourenço.
- a porção Leste.

## EXERCÍCIOS PROPOSTOS

Utilize o mapa abaixo para responder os testes de 1 a 5:



01 . A região assinalada com o algarismo I representa:

- uma área de grande exploração madeireira devido a presença da taiga canadense;
- uma área de pecuária extensiva;
- a Província de Alberta, com grande concentração industrial;
- o Vale do São Lourenço, importante área de policultura, pecuária intensiva e industrialização;
- a área de maior produção de petróleo do Canadá.

02 . Os algarismos IV e V correspondem, respectivamente, às áreas ocupadas por vegetação de:

- campos e taiga
- savanas e estepes
- floresta canadense e tundra
- taiga e pradarias
- pradarias e tundra

03 . A região assinalada com algarismo III corresponde à área de policultura do Pacífico. Nela encontramos o principal porto do Pacífico, que é:

- Halifax
- Montreal
- Vancouver
- Toronto
- Winnipeg

04 . A principal atividade econômica da área assinalada com o algarismo IV é:

- o cultivo de cereais
- a exploração madeireira
- a policultura
- a pecuária extensiva
- a extração de petróleo

05 . A principal área agrícola do Canadá, de agricultura comercial e especulativa, é o Prairie, cujo principal produto é o trigo, que tem como centro comercial a cidade de Winnipeg. Essa área está assinalada no mapa com o número:

- I
- II
- III
- IV
- V

06 . Podemos afirmar que:

- O Canadá possui um grande potencial hidráulico, mas não o aproveita.
- O Canadá é o primeiro produtor mundial de papel jornal.
- A cidade de Sudbury (Província de Ontário) possui grandes depósitos de níquel e cobre, mas insuficientemente explorados.
- A capital do Canadá é Montreal.
- O Canadá é um país bem povoado.

07 . (VUNESP) A propósito da população canadense, podemos afirmar que:

- É essencialmente rural.
- 90% da população concentram-se ao longo da fronteira com os Estados Unidos.
- 42% da população situam-se na faixa etária superior a 20 anos.
- Ontário e Quebec são as províncias com maiores vazios demográficos.
- 33% da população são formadas por elementos de cor negra.

### ESTADOS UNIDOS DA AMÉRICA

Ocupando uma superfície de 9.372.614 km<sup>2</sup>, (23% do continente americano), é o 4º país mais extenso do globo. Caracteriza-se como uma República presidencialista, federativa composta por 50 Estados, dois deles (Alasca com 1.500.000 km<sup>2</sup> e Hawai com 16.000 km<sup>2</sup>, não tem fronteira com o restante do país), isto é, são terras descontínuas; e o distrito de Colúmbia, onde situa-se a capital Washington, o controle sobre Porto Rico além de várias possessões no Pacífico e no Mar das Caraíbas.



Os Estados Unidos formaram-se a partir das 13 Colônias Inglesas da costa leste, durante os séculos XVII e XVIII, quando a 4 de julho de 1776, foi declarada a independência iniciando sua expansão territorial chegando a sua configuração atual que corresponde a nove vezes seu núcleo inicial.



Essa expansão deve-se a dois fatos importantes:

- ⇒ **Imigração:** o governo norte-americano estimula a imigração: de 7 milhões de habitantes em 1800, recebe entre 1840-60 e 1880-90, cerca de 30 milhões de imigrantes;
- ⇒ **Ferrovias:** em 1861 a rede ferroviária americana já totalizava 49.000 km de extensão, quando é fundada a *Central Pacific* e, em 1862 a *Union Pacific*, que, em 1869 conclui a construção da primeira ferrovia transcontinental das Américas.

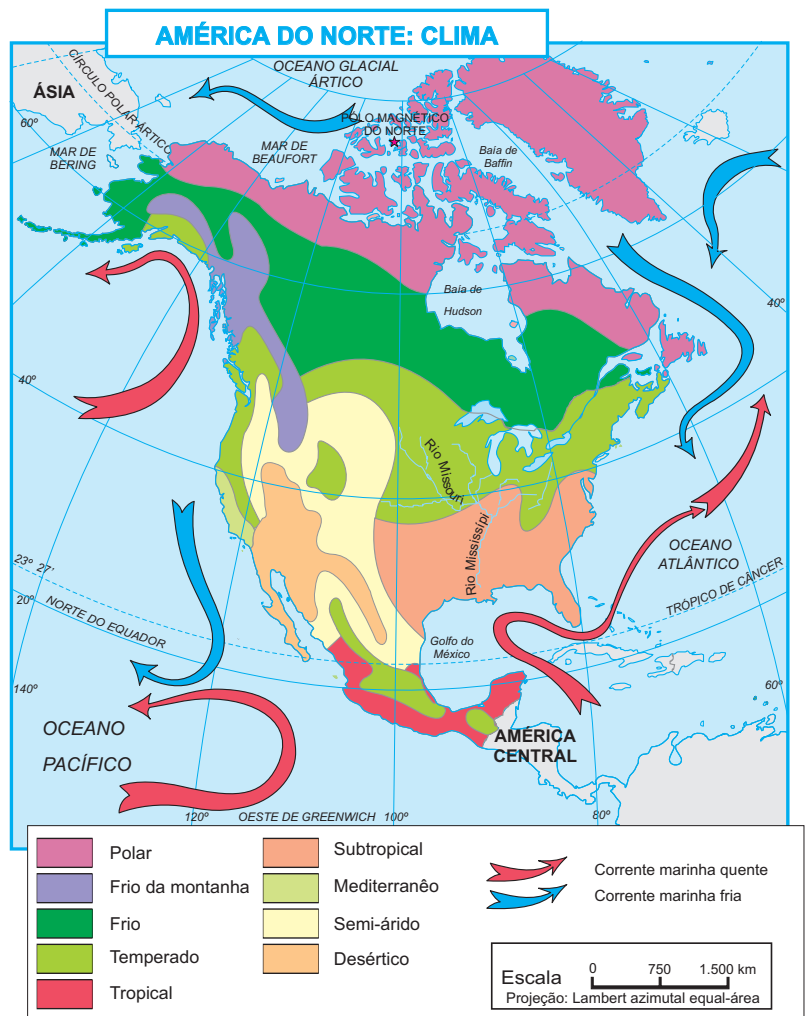
## Clima e Vegetação

Em território americano, bem como em toda a América Anglo-saxônica, os climas sofrem a ação de determinados fatores, a saber:

- ⇨ **Posição geográfica:** Um dos mais fortes fatores climatobotânico de uma região. As latitudes variam dos 25° N, no sul dos EUA, a 80° N no norte do Canadá.
- ⇨ **Correntes marítimas:** a do Pacífico Norte (quente) provoca chuvas intensas no litoral noroeste dos EUA e oeste do Canadá; ao Sul, na Península da Flórida, a corrente do Golfo, torna a região mais quente e chuvosa; a Costa Oeste é atingida pela corrente fria da Califórnia, deixando semi-árido o litoral ao sul de São Francisco; a corrente fria do Labrador, banha a costa leste, congelando o litoral até a altura de Nova Iorque.
- ⇨ **Relevo:** tem bastante influência porque:
  - a área central forma um corredor que canaliza a passagem de massas de ar, determinando grande amplitude térmica, facilitando a ocorrência de **tornados e furacões**;
  - em função das grandes altitudes das Montanhas Rochosas e Cadeia da Costa, baixam as temperaturas, em especial no oeste americano;
  - é responsável pela existência de desertos nos planaltos do Colorado e de Colúmbia.
- ⇨ **Massas de ar:** da região do Ártico penetra uma massa Polar em direção às planícies centrais do Canadá e dos Estados Unidos, baixando a temperatura para até -40 °C. Sua ação pode atingir o Golfo do México, sob a forma de frentes frias e geadas ocasionais. No verão, a massa Tropical penetra pela bacia do Mississippi, elevando rapidamente as temperaturas provocando chuvas intensas, no sul e sudeste dos Estados Unidos.

Pela localização geográfica, predominam as seguintes paisagens climatobotânicas:

- ⇨ **Clima Frio de Montanha:** encontrado nas grandes elevações. Sua média térmica fica abaixo dos 10°C, com índice pluviométrico entre 200 e 500mm. Nessa área aparecem as coníferas;
- ⇨ **Clima Temperado continental:** predomina em toda porção Centro-Oriental do país, caracteriza-se por verões quentes e invernos rigorosos, sua vegetação predominante é a pradaria (planícies centrais), um tipo herbáceo que pode também ser denominada de estepe nas áreas menos úmidas (oeste americano). Já nas áreas mais úmidas é possível encontrar a floresta latifoliada caducifólia;
- ⇨ **Clima Mediterrâneo:** típica da Costa Oeste americana, apresenta verões secos e invernos chuvosos. A vegetação é arbustiva tropófito, semelhante à Savana;
- ⇨ **Clima Árido e Semi-Árido:** ocupam áreas da região Oeste, aonde os ventos úmidos do Pacífico não chegam em função das Montanhas Rochosas e da ação das correntes marítimas frias que atuam na região.
- ⇨ **Clima Subtropical:** ocorre no Sul e Sudeste, no Golfo do México e Península da Flórida e sua vegetação é de floresta tropical latifoliada.



## Aspectos Econômicos

Com um PIB de US\$ 8,2 trilhões (1998), os Estados Unidos ocupam o primeiro lugar entre as potências econômicas do mundo. O valor de sua produção e de seus serviços representa quase a metade do valor mundial, embora conte com menos de 5% da população da Terra.

Sua renda per capita é das mais altas do globo, com US\$- 29.240 (1998) e com tendência de alta, uma vez que a economia americana continua crescendo.

Este extraordinário poderio econômico foi alcançado graças a vários fatores favoráveis:

- ⇨ Extensão territorial;
- ⇨ variados climas e solos, com imensas disponibilidades de recursos naturais;
- ⇨ perfil dos colonizadores e imigrantes;
- ⇨ mercado interno forte, com população de alto poder aquisitivo;
- ⇨ grandes investimentos em transportes e comunicações;
- ⇨ o dinamismo do capitalismo americano, bem como as estratégias de penetração americana no mundo;
- ⇨ investimentos em pesquisas científicas e novas tecnologias, produção em série, mecanização avançada, automação e concentração financeira de grandes grupos industriais, que se ramificam por todos os continentes;

Estas são algumas das mais importantes características da mais evoluída economia mundial.

O país **exporta** principalmente tecnologia, capitais, maquinário industrial e eletrônico, aviões, automóveis, metais, produtos químicos, carvão, tabaco, trigo e algodão bruto. **Importa** petróleo, ferro, manganês, cacau, chá, café, açúcar, produtos semi-manufaturados e manufaturados que já não existe interesse de se produzir em território americano por consumir muita energia, ou usar muita mão-de-obra, ou ainda ser muito poluente sua produção.

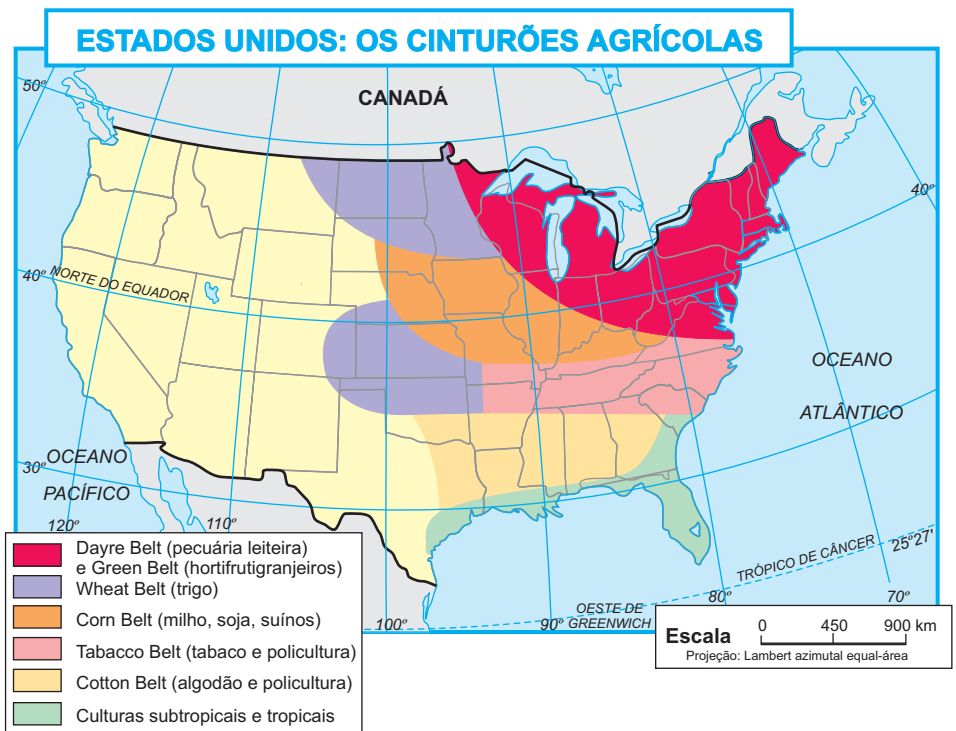
Os maiores parceiros comerciais dos americanos são: Países da OPEP, Europa Ocidental, Canadá, América Latina e Japão.

## Agropecuária

Embora com apenas 3,0% de sua PEA, mas, intensa mecanização e aplicação de tecnologia de ponta, os Estados Unidos se destacam pelo volume e variedade da produção e pela elevada produtividade. São eles o 1º produtor mundial de milho, frutas, legumes, soja, tabaco e aveia; 2º lugar na produção de trigo, cevada e beterraba.

Normalmente essas atividades são praticadas em áreas seletivas e especializadas. Veja as principais:

- ⇨ **Wheat Belt:** cinturão do trigo, a oeste dos Grandes Lagos e do rio Mississipi, sua produção é de cerca de 80 milhões de toneladas anuais;
- ⇨ **Corn Belt:** cinturão do milho, ao sul dos Grandes Lagos, os americanos controlam quase metade da produção mundial de milho, cerca de 200 milhões de toneladas anuais. Essa cultura é produzida em associação com a suinocultura, (terceiro maior rebanho do mundo com 70 milhões de cabeças);
- ⇨ **Cotton Belt:** cinturão do algodão, no sul do país, região de clima mais quente, desde o século XVII, o algodão serve de base para uma das mais importantes indústrias têxteis do mundo - a indústria de Jeans - ;
- ⇨ **Green Belt:** correspondem aos cinturões verdes, formados por granjas, hortas e pomares, em torno dos grandes adensamentos populacionais, concentra-se no nordeste do país;



Suas principais áreas industriais são:

### ⇒ Manufacturing Belt

A região dos Grandes Lagos e Nordeste dos Estados Unidos foi impulsionada pela presença de jazidas de minério de ferro, pelo carvão mineral nos Montes Apalaches, além da navegabilidade do Rio São Lourenço e dos Grandes Lagos. Isso explica a concentração industrial às suas margens, principalmente nos Estados da Pensilvânia, Michigan, Illinois, Ohio e Nova Iorque; Aí são destaques as indústrias químicas, siderúrgicas e automobilísticas.

### ⇒ Sun Belt

Essa concentração industrial no Sul do país aproveitou-se da mão-de-obra abundante e barata dos negros libertados após a Guerra da Secessão. As primeiras fábricas industrializavam o algodão e o tabaco, produzido em regime de Plantation. A região abriga as duas maiores indústrias têxteis do mundo, a Burlington e a Levi-Strauss.

Nessa região o setor petroquímico é outro grande destaque, a produção nos arredores do Golfo do México, situa-se nos 7 milhões de barris de petróleo/dia.

Ainda um novo setor industrial, a indústria aeroespacial, desenvolve-se na região, trata-se do Cabo Canaveral Kennedy na Flórida.

### ⇒ Costa do Pacífico

Após a Segunda Guerra Mundial, favorecido pela presença de grande potencial hidrelétrico, abundância de recursos minerais, matéria-prima e incentivos governamentais, surge, no Oeste, um novo pólo geopolítico. A indústria expandiu-se para o Oeste, principalmente nos Estados da Califórnia, Oregon e Washington. Nessa região são notáveis o setor aeronáutico em Seattle (Washington) e a indústria da informática na Califórnia (Vale do Silício).

## Transportes

A rede de transporte americana é a mais desenvolvida e uma das mais diversificadas do mundo. Superam os 500.000 km de ferrovias, modernas e eficientes; são mais de 6.200.000 km de rodovias, grande parte delas asfaltadas ou pavimentadas, além de uma navegação fluvial e lacustre muito intensa, através, respectivamente dos rios Mississipi, Ohio e São Lourenço e os Grandes Lagos. Na navegação marítima o porto de Nova Iorque é o seu maior símbolo de desenvolvimento e a aviação comercial é a mais desenvolvida e numerosa do mundo.

## EXERCÍCIOS

- 01 . (FUVEST-SP) Em um percurso aéreo, em linha reta, entre as cidades de Montreal a São Francisco, na América do Norte, um avião sobrevoará, entre outras, as seguintes regiões:
- Grandes Lagos, Planícies Centrais e Montanhas Rochosas.
  - Norte dos Apalaches, Vale do São Lourenço e Vale do Colúmbia.
  - Península do Labrador, Planícies Centrais e planalto do Colorado.
  - Planícies Costeiras Atlânticas, Montes Apalaches e Montanhas Rochosas.
  - Terra Nova, Montes Apalaches, Vale do Mississipi.
- 02 . (UEM-PR) Assinale o que for correto sobre os aspectos econômicos dos Estados Unidos, recorrendo ao mapa abaixo, quando necessário.



- As áreas de números 1, 2 e 3 correspondem, respectivamente, ao "corn-belt" - cinturão do milho, ao "cotton-belt" - cinturão do algodão e à zona das culturas tropicais.
- As áreas de números 4 e 5 correspondem, respectivamente, à zona de pecuária extensiva e à zona de culturas irrigadas - o "dry-farming".
- Na área de número 6, destacam-se as atividades de extração de madeira e a mineração de ouro.
- Na Flórida, a fruticultura, cuja principal área de cultivo é de laranja e de uva, é importante, porque atende às indústrias de sucos e de vinhos.
- O deserto do Colorado ocupa parte da área de número 4, na sua porção meridional; a mineração e o turismo são exemplos de atividades econômicas desenvolvidas no local.
- A região dos Grandes Lagos destaca-se pela atividade industrial e pela pecuária leiteira e de corte. O "milk-belt" corresponde ao cinturão do leite e o "meat-belt", ao cinturão da carne.



06 . Situada junto ao litoral nordeste dos Estados Unidos, a megalópole Boswash tem cerca de 700km de extensão e possuem mais de 20% da população do país. A respeito da organização espacial dessa área, assinale a opção correta:

- a) Maior concentração de indústrias pesadas do país, a megalópole se desenvolve graças à presença de grandes jazidas de ferro, petróleo e carvão nessa área do litoral americano.
- b) Uma das maiores expressões de desenvolvimento econômico do país, a megalópole contém, contraditoriamente, uma população heterogênea quanto ao nível de vida, fato evidenciado pela presença de bairros extremamente pobres junto ao centro e subúrbios luxuosos.
- c) A principal atividade econômica da megalópole é a exportação de gêneros agrícolas, já que as mais importantes áreas produtoras de cereais encontram-se na periferia de suas cidades.
- d) A megalópole se constitui em um exemplo de urbanização para o resto do país, pois suas cidades foram planejadas de tal forma que suas diversificadas atividades econômicas não prejudicam o bem-estar de sua população.
- e) A presença de numerosas colônias imigrantes é responsável pelo elevado nível de vida e pela equilibrada distribuição de renda, fatos que caracterizam a população da megalópole e lhe asseguram um mercado consumidor forte e homogêneo.

07 . (UEM-PR) Sobre as etnias e outros aspectos populacionais dos Estados Unidos, assinale o que for correto.

- 01) Durante os séculos XVI e XVII, as treze colônias do Leste foram ocupadas por colonos francos, judeus e britânicos, que fugiam das perseguições religiosas na Europa. Esses imigrantes interessados na exploração do ouro na Califórnia fundaram as primeiras colônias de exploração da América.
- 02) Os negros trazidos da África para trabalhar nas lavouras do Sul, constituem, ainda hoje, importante parcela da população nos estados do Alabama e da Geórgia, por exemplo.
- 04) Na atualidade, os latino-americanos constituem importante fluxo migratório. Muitos porto-riquenhos buscam as cidades do Nordeste industrial. Os mexicanos, porém, dirigem-se, freqüentemente, para as áreas rurais do Sul e do Sudoeste americano.
- 08) Os negros e os mestiços de brancos com negros, embora com tendência à diminuição na representatividade percentual sobre o total da população norte-americana, vêm deslocando-se dos estados do Sul, concentrando-se, principalmente, nas cidades do Oeste.

16) Os latino-americanos, pejorativamente chamados de *cucarachas*, que significa "baratas", são, muitas vezes, segregados pela população branca, de origem anglo-saxônica. Essa segregação nem sempre é explícita, concretizando-se, contudo, na sua marginalização econômica.



08 . Some as alternativas corretas:

O agricultor norte-americano é um empresário bem provido de capitais, á altamente especializado e apresenta índices de enorme produtividade. Em vez de gastar horas de seu trabalho na atividade agrícola, ele compra o equivalente deste trabalho à Standard Oil (petróleo), a International Harvester (máquinas agrícolas) e a American Cyanamid (adubos).

Como podemos comparar este agricultor norte-americano ao agricultor da Ásia das Monções?

- 01) Enquanto o agricultor asiático planta para viver e vive para plantar, o norte-americano é treinado por técnicos e utiliza-se, cada vez mais, da indústria na agricultura.
- 02) O uso de "dry farming", devido ao regime das monções, impõe como cultivo dominante o arroz, enquanto nos EUA o agricultor se dedica essencialmente à policultura.
- 04) Enquanto nos EUA são utilizadas grandes extensões de terra, grandes somas de capital e pequeno volume de mão-de-obra, na Ásia predomina o trabalho da população, com pouca terra e quase ausência de capital.
- 08) Tanto na Ásia como na América, apesar de se usarem insumos diferentes, são obtidos semelhantes índices de produção por hectare, e a quantidade de população agrícola sustentada pela produção é a mesma.
- 16) O excedente da produção asiática é bem superior ao da produção norte-americana, pois nas áreas subdesenvolvidas a agricultura representa um papel muito mais importante, na economia, do que nas desenvolvidas.



09 . (UEL-PR) Nos Estados Unidos, as culturas irrigadas aparecem principalmente no:

- a) Leste.
- b) Sudeste.
- c) Centro-Leste
- d) Nordeste.
- e) Oeste.

### JAPÃO

O arquipélago japonês encontra-se totalmente no Hemisfério Norte, localizado na porção leste da Ásia, separado da mesma pelo Estreito da Coréia e o Mar do Japão. É banhado a leste pelo Oceano Pacífico e a oeste pelo Mar do Japão.

### Aspectos Físicos

O Japão é formado por um arquipélago vulcânico, composto por quase 4.000 ilhas formando um arco com aproximadamente 3.500 km de extensão, totalizando uma área de 377 mil km<sup>2</sup>.

Dentre as milhares de ilhas, quatro são as principais, totalizando 97% do território japonês. São elas:

- ⇒ Hokkaido (83.519 km<sup>2</sup>) a mais setentrional;
- ⇒ Honshu (230.822 km<sup>2</sup>) a maior e mais populosa, abriga a capital, Tóquio;
- ⇒ Shikoku (18.780 km<sup>2</sup>) a menor das ilhas;
- ⇒ Kyushu (42.030 km<sup>2</sup>).



### Relevo

Em seu relevo predominam as formações recentes, datadas do Período Terciário, em sua maior parte, planáltico e montanhoso (80%) e, poucas, mas férteis planícies litorâneas (16%), onde se concentra a quase totalidade da população.

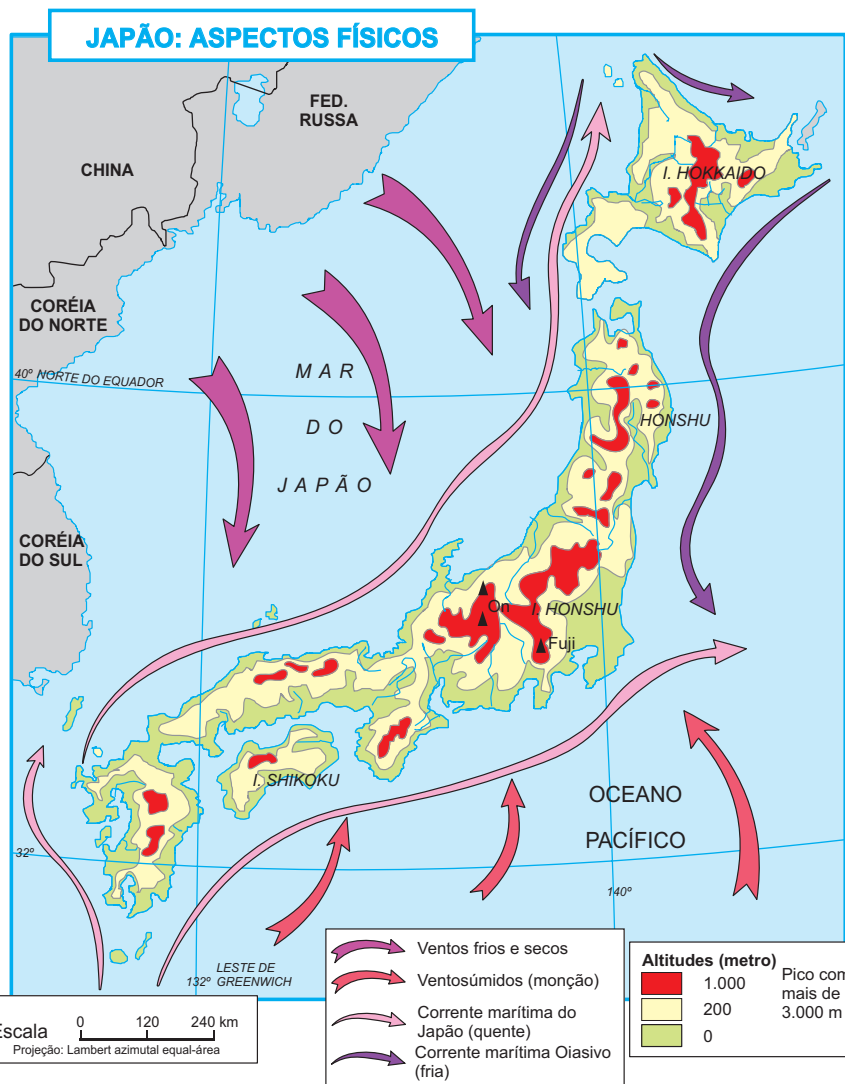
O Japão integra o **Círculo de fogo do Pacífico**. Por ser de formação geológica recente, são muito comuns as atividades vulcânicas e fortes abalos sísmicos.

### Clima

Situado totalmente na Zona Temperada Norte, entre 30° a 45°N, predominam três tipos climáticos: **Frio**, no extremo norte; **Temperado**, no norte e região central e **Subtropical**, no sul.

Os fatores que mais interferem na sua dinâmica climática são:

- ⇒ Localização em áreas de médias latitudes;
- ⇒ Sua situação insular, apresentando grandes recortes litorâneos, e com isso grande interferência da maritimidade.



Quanto à pesca, o Japão é o primeiro produtor mundial de pescado, sendo considerado o país mais desenvolvido tecnologicamente tanto na construção de embarcações (navios-fábricas), como nas técnicas de captura. As correntes marinhas Oyashivo (fria) e a Kuroshivo (quente) beneficiam sua produção pesqueira, que gira em torno de 11 milhões de toneladas/ano (atum, salmão e baleia). Destaque também para sua aquacultura, que desenvolveu o cultivo de algas, ostras e camarões.

## Recursos Minerais

Seu desenvolvimento econômico o transformou num grande importador de matérias-primas. Dentre os produtos importados destaca-se: o petróleo, o carvão, minério de ferro, cobre, níquel e bauxita.

Sua produção local cobre apenas alguns recursos minerais tais como: zinco (5º produtor mundial), chumbo (4º produtor mundial), tungstênio (27% da demanda interna), ouro (24% do consumo interno), além do enxofre e calcário em boa quantidade.

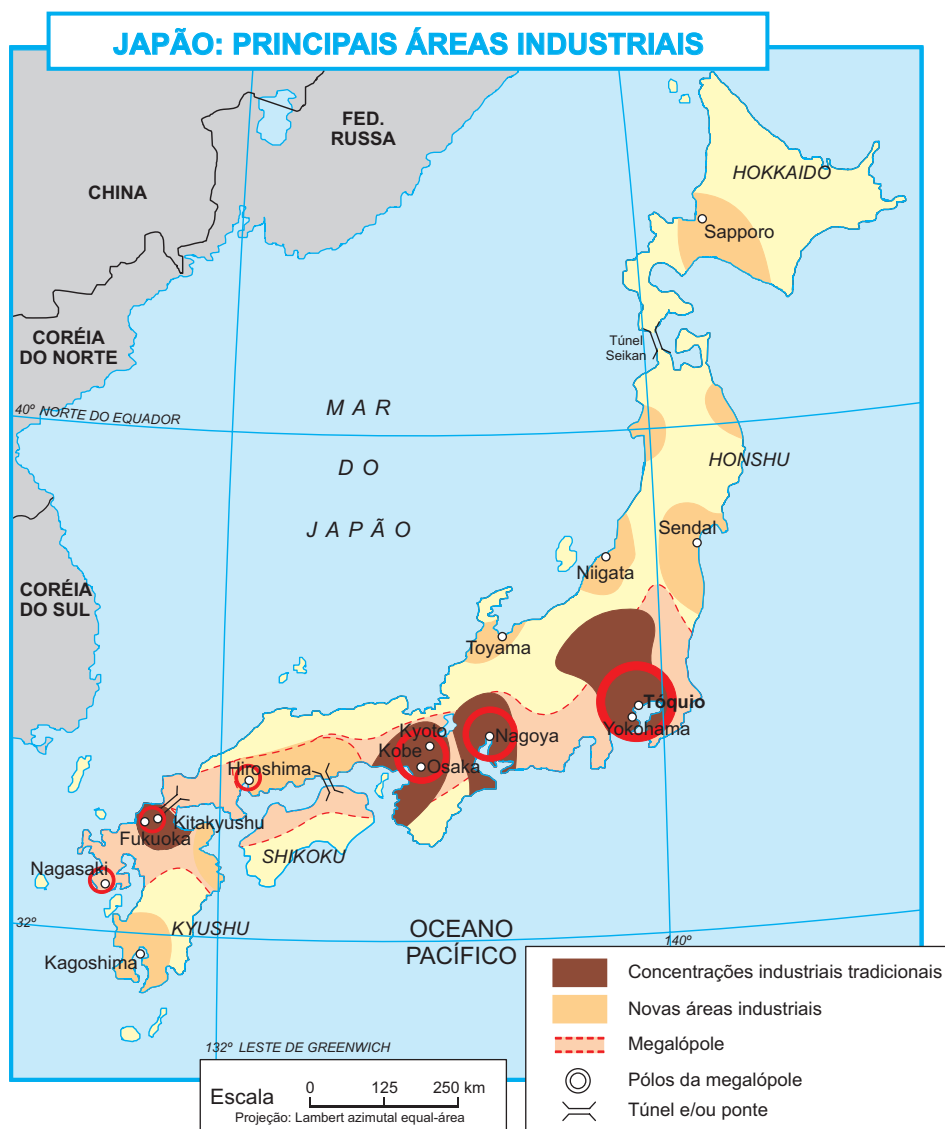
## Indústria

Apesar da carência visível de recursos minerais e energéticos (importa 93% das matérias-primas industriais de base e 96% do petróleo consumido), a indústria japonesa destaca-se pelo volume de sua produção, competindo com os EUA e Alemanha.

Essa situação é o resultado de um processo iniciado com a Era Meiji (1868), cujas bases eram as empresas familiares (zaibatsus), que se transformaram em verdadeiros impérios econômicos (Mitsubishi, Matsushita, Sumitomo, Mitsui, etc). No entanto, seu desenvolvimento atinge níveis elevadíssimos após a Segunda Guerra Mundial, tendo como principais fatores:

- ⇒ expansão do mercado interno;
- ⇒ ajuda econômica norte-americano ("mini" Plano Marshall);
- ⇒ volta dos grandes monopólios (desativados durante a Segunda Guerra Mundial);
- ⇒ numerosa mão-de-obra, qualificada e barata;
- ⇒ produção em larga escala voltada para exportação;
- ⇒ investimentos em ciência e tecnologia.

Sua indústrias mais importantes são a naval (1ª mundial), a automobilística (2ª mundial) e a siderúrgica.



Indústrias	Produção Mundial
Navios	54%
Veículos utilitários	42%
Automóveis	25%
Resinas	14%
Aço	14%
Tecidos sintéticos	13%
Cobre	12%
Borrachas artificiais	11%

- 03 .A indústria japonesa desenvolveu-se aceleradamente no pós Segunda Guerra Mundial. Entre outros motivos esse fato deveu-se:
- aos grandes investimentos de capitais norte-americanos em grupos industriais japoneses.
  - à presença, no país, de grandes reservas de carvão, petróleo e minério de ferro.
  - à existência de grande mercado comprador representado pela China e pela Coreia do Sul.
  - à localização privilegiada do país em relação aos mercados americanos e europeus.
  - à existência, no país, de enormes reservas de ouro que permitiram elevadas exportações de capitais.
- 04 .(CESGRANRIO) Apesar de seu grande poderio econômico a nível mundial, a economia japonesa enfrenta alguns problemas para manter seu desenvolvimento.
- Assinale a opção que encerra um desses problemas:
- baixa produtividade do trabalho no setor das indústrias modernas;
  - crescente dependência do exterior em relação à obtenção de matérias-primas;
  - baixa taxa de investimento no setor produtivo, pelo desvio de capital para investimentos no exterior;
  - mercado interno irrisório, devido aos baixos salários dos trabalhadores e à pobreza da classe média;
  - esterilização dos solos agrícolas, provocada pela poluição industrial generalizada.
- 05 .(UNIV. CAT. - PELOTAS) O Japão tornou-se uma potência econômica após a 2ª Guerra Mundial e para isso fundamentou sua ação na criação de um modelo econômico, cujo objetivo foi primordialmente juntar seus esforços para suprir suas deficiências internas, como: carência de matéria-prima descontinuidade territorial, número populacional, etc. Modernamente faz parte deste modelo:
- o investimento de capital nos países em desenvolvimento, principalmente em projetos associados aos governos, que tenham por objetivo a produção de alimentos ou a extração mineral;
  - restringir a política agressiva no mercado externo visando a melhoria social para sua população, objetivando a elevação do padrão de vida;
  - voltar suas atenções para a substituição na importação de matérias-primas através do desenvolvimento de planos científicos experimentais;
  - aumentar as exportações para evitar o endividamento, já que as matérias-primas brutas e os produtos alimentares importados vêm alcançando preços cada vez maiores;
  - ampliar as exportações de energia conseguindo assim equilibrar a balança de pagamentos quase comprometida pelos elevados custos sociais.
- 06 . Sobre a produção energética do Japão, é correto afirmar que:
- As reservas de carvão são superiores às do Brasil e a produção de coque supre satisfatoriamente a indústria siderúrgica.
  - É o terceiro refinador de petróleo do mundo, apesar de ser um dos maiores importadores do produto.
  - Cerca de 70% da eletricidade produzida provém do carvão e do petróleo, enquanto a energia nuclear contribui com 16%.
  - Não aproveita seu potencial hidrelétrico, apesar de possuir um relevo montanhoso e um clima úmido.
- 
- 07 .(UEM-PR) A economia japonesa, uma das mais avançadas do mundo, está quase que completamente robotizada e automatizada. Mesmo assim, trabalhadores brasileiros continuam indo ao Japão à procura de trabalho e lá, sem muitas dificuldades, conseguem empregos bem remunerados em relação às condições do Brasil. A situação contraditória (automatização - robotização x facilidade de empregos para trabalhadores de um país de Terceiro Mundo) deve-se:
- à expansão industrial japonesa em setores não dependentes de tecnologia avançada;
  - aos interesses japoneses em treinar mão-de-obra brasileira;
  - à nova política imperialista japonesa, baseada na persuasão e exploração de mão-de-obra barata;
  - às necessidades de mão-de-obra não qualificada, que podem ser supridas pelo trabalhador brasileiro;
  - à expansão do mercado de trabalho japonês, além do que comporta a oferta interna de trabalhadores;
  - ao processo de envelhecimento da população japonesa e à não renovação da força de trabalho em função da chamada força jovem.
-